
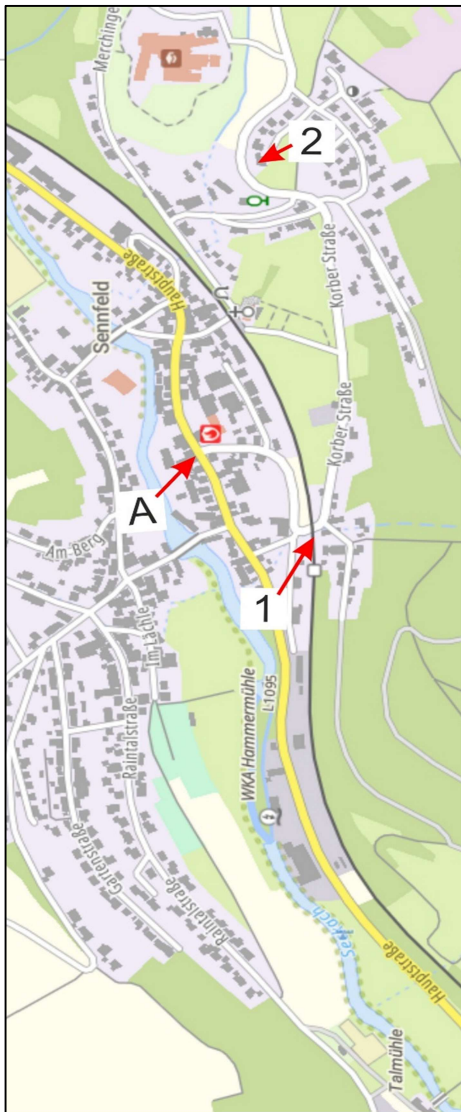
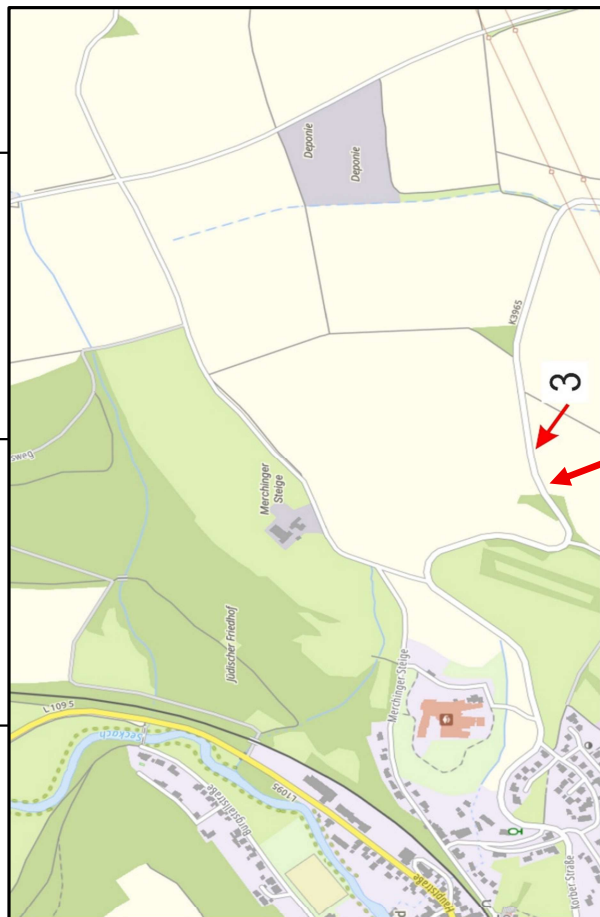



Fahrtabschnitt		Start		Hotel Sinsheim		
5		ZK		Boxberg		
Distanz(km)	Minuten	km/h	24. Bosch Boxberg Klassik			
107,98	150	43,2				
Distance(mil)		mph				
67,1		26,8				
Entf.(km)	Dist. (miles)	Richtung		Information / Richtung		Entf. Degressiv
Total	Detail					

Ori-Aufgabe 4 Lösung: Zahlen abfahren

Beschreibung/Ablauf:
Fahren Sie die Strecke von **A bis E** in **numerischer Reihenfolge von 1 bis 5** so ab, dass die Zahlen stets in Fahrtrichtung rechts passiert werden.
In der gesamten Prüfung besteht „Einbahnregelung“.





Fahrtabschnitt		Start		Hotel Sinsheim		
5		ZK		Boxberg		
Distanz(km)	Minuten	km/h	24. Bosch Boxberg Klassik			
107,98	150	43,2				
Distance(mil)		67,1	mph	26,8		
Entf.(km)	Dist. (miles)	Richtung		Information / Richtung		Entf. Degressiv
Total	Detail					

